

2024年度入学試験問題

# 社 会

(35分)

第2回 2月2日実施

[注意] 解答はすべて解答用紙に記入しなさい。  
問題用紙も提出しなさい。

吉祥女子中学校

## 1

次の文章を読んで、後の問いに答えなさい。

2023年、①創刊から101年を迎えたある大手週刊誌の休刊が決まりました。情報機器の発達により、印刷された雑誌や書籍を読む機会が減っていることを示すできごとでした。それではそれぞれの時代の社会や技術の発展に注意しながら、日本の人々と本とのかかわりをふりかえてみましょう。

今日の本は、文字を紙に記したものが一般的です。②2世紀中ごろの土器に漢字が刻まれているという報告もあり、このころには、文字が日本列島に伝わっていたと考えられます。また、日本における読書の記録でもっとも古いものは、古墳時代に、大王の子が③『論語』・『千字文』という中国の本を学んだという歴史書の伝承です。7世紀後半に律令国家が整備されるなかで、役人を養成する教育機関がつくられ、中国の本が教材とされました。さらに、こうした教育機関に本が備えられる以外に、④古代・中世には、権力者が私的に本を収集することもありました。

日本語による本が増加するのが平安時代です。⑤かなの発明により、日本語をそのまま記すことができるようになり、和歌・物語・日記などの多くの文学作品がつくられ、貴族社会のなかで読まれるようになりました。

本が庶民へと広がりを見せたのは江戸時代です。特に⑥寛政年間(1789～1801年)以降に、都市部の民衆には読書を楽しむ人が増加しました。この背景の一つには、木版印刷の普及で本が多くつくられ、手に入れやすくなったことがあります。また、⑦当時の小説はふりがなも多く、難しい漢字が分からなくても、読むことができたのです。このような娯楽としての読書の広まりは、明治維新後まもない日本に滞在した⑧ロシア人のメーチニコフの記録からも知ることができます。彼は、東京の庶民が何冊もの手垢にまみれた本を持っており、暇さえあればそれをむさぼり読んでいるのを見たときと記しています。とはいえ、全国的に見ると、文字を読むことの出来る人はまだ少なかったもので、読書を楽しんだのは、都市の住民など一部の人々に限られていました。

一方で、明治時代には、活字印刷の導入という大きな変化がおきました。それ以前にも、⑨安土・桃山時代にキリスト教の宣教師が活字印刷を使用したこともありました。ただし、日本語を表す文字の数・種類が多く、活字をつくる手間がかかったため、ほとんど行われませんでした。しかし、⑩本木昌造により、活字を簡単につくる仕組みが紹介されると、活字印刷が急速に広まったのです。印刷技術の進歩で出版量は増え、それまで以上に本が行き渡りやすくなりました。ただ、文字を読めない人はまだ多かったので、文字を読める人が新聞や本を声に出して解説しながら読み聞かせることも多かったようです。⑪自由民権運動の思想を伝える本は、政治に関する難しい考えや用語が書かれていましたが、訴えかけるように音読されることで、全国の人々に

広まったとも言われます。ただし、⑫こうした読み聞かせは、明治30年代には姿を消していったようです。

さらに、大正時代以降、読書に親しむことのできる環境が整っていきました。具体的には、次の二つを指摘できます。一つめは、図書館が利用しやすくなったことです。東京では大正時代に無料で利用できる公立図書館が増え、気軽に本を借りて読めるようになりました。占領期になると、⑬GHQの指示で公立図書館の利用を無料とすることを定めた法律が制定され、身近に図書館を利用できる環境が全国に広まりました。二つめは、大衆を対象とした読み物が多く出版されるようになったことです。大正時代から昭和のはじめにかけて、大衆小説や週刊誌など簡単に読める本が増えました。こうした傾向は戦後も続き、漫画などさらに読みやすい本も広まりました。

しかし、高度経済成長が終わった⑭1970年代後半以降、本を読まない「活字離れ」の問題が指摘されるようになりました。近年では、短い動画を視聴するばかりで漫画すら読まない人も増えています。日本人々と本との関わりは転換期を迎えているようです。

問1 下線部①に関連して、この週刊誌の刊行が開始された1920年代の東京や大阪について述べた文として正しくないものを次のア～エから一つ選び、記号で答えなさい。

- ア レンガ造りの建物やガス灯を街灯とした舗装道路が見られるようになった。
- イ 都市化が進み、郊外の住宅地から鉄道で通勤する人も増えた。
- ウ 木造住宅に加えて、地震に強いコンクリートのアパートも建築された。
- エ 鉄道駅に直結する、生鮮食品などの日用品を多く扱ったデパートが登場した。

問2 下線部②の時期の日本の暮らしについて述べた文として正しいものを次のア～エから一つ選び、記号で答えなさい。

- ア 海水面の低下によって大陸と陸続きになり、そこから渡ってきたマンモスやナウマンゾウのような大型動物の狩猟を集団で行っていた。
- イ 木の実の採取やオオツノジカやイノシシといった小動物の狩猟を行い、自然のなかの精霊をあがめ、土偶など呪術的な道具を用いた。
- ウ 朝鮮半島から新たな土器の焼き方が伝わり、のぼりがまを用いて高温で焼き上げた、やや白めの土器も使用されるようになった。
- エ 指導者のもとに協力して水田を開発し、稲を育て、石包丁などで収穫した米は高床倉庫で保存された。

問3 下線部③は孔子という中国古代の思想家の発言をまとめた本です。孔子に始まる教えや学問のことを何と言いますか。漢字2字で答えなさい。

問4 下線部④に関連して述べた次のA～Cの文を時期の古いものから順に並べかえるとどうなりますか。正しいものを後のア～カから一つ選び、記号で答えなさい。

A 北条実時は執権の北条時頼のもとで引付衆を務め、武蔵国六浦<sup>むつら</sup>に自身の蔵書を集めた金沢文庫を設けた。

B 藤原道長は天皇や貴族たちと漢詩文をつくることを好み、多くの中国の本を所有し、自宅内に図書室を設けた。

C 石上宅嗣<sup>いそのかみのやかつぐ</sup>は『万葉集』や『懷風藻』<sup>かいふうそう</sup>に和歌や漢詩<sup>のこ</sup>を遺し、自宅の一部を芸亭<sup>うんてい</sup>という公開図書館とした。

ア A→B→C

イ A→C→B

ウ B→A→C

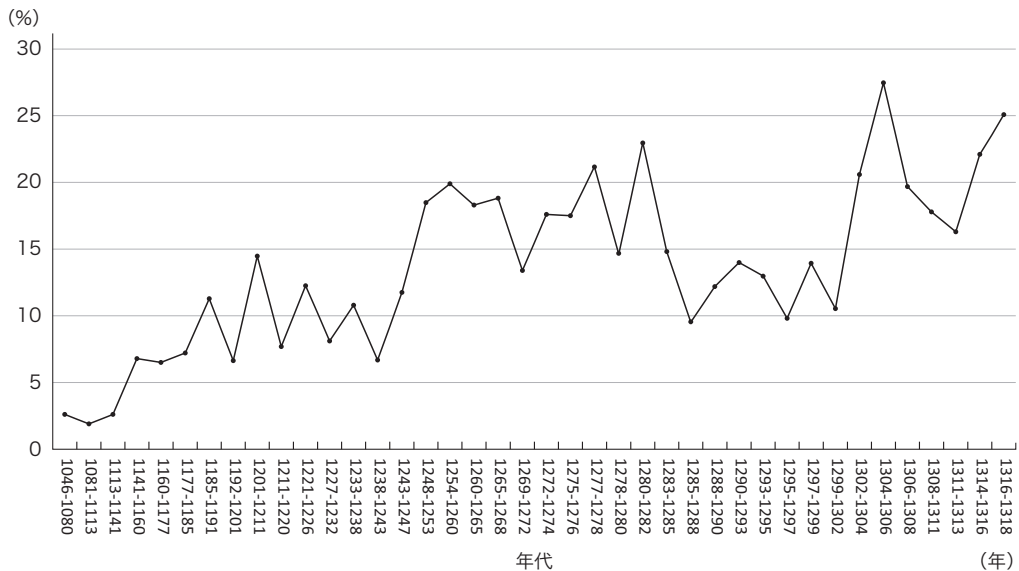
エ B→C→A

オ C→A→B

カ C→B→A

問5 下線部⑤について、かなは漢字にくらべて文字数が少ないことから、簡単に習得でき、教育水準が高くない武士などにも広まったと言われています。次のグラフは、1046年から1318年までの古文書のうちで、かなを用いたものの割合を示したものです。このグラフとそれぞれの時期の武士のあり方について述べたA～Dの文のうち、正しいものの組み合わせを後のア～カから一つ選び、記号で答えなさい。

かなまじり古文書の比率



※ 同じ年が示されている場合には、その年の途中で分けています。

(網野善彦「日本の文字社会の特質」『網野善彦著作集第15巻』岩波書店をもとに作成)

- A 12世紀には、かなを用いた文書の比率は5%をこえるようになった。この時期には保元・平治の乱が発生するなど、武士が中央政界でも力を強めた。
- B 13世紀前半には、かなを用いた文書の比率は最低でも10%以上となった。この時期には武士が地頭に任命され、荘園などの土地を支配していた。
- C 13世紀後半には、かなを用いた文書の比率は20%をこえることもあった。この時期には武士がモンゴル襲来に備えて九州を警備することもあった。
- D 14世紀に入ると、かなを用いた文書の比率は25%をこえることもあった。この時期には最初の武家法が制定され、これはかなで記されていた。

- |       |       |       |
|-------|-------|-------|
| ア AとB | イ AとC | ウ AとD |
| エ BとC | オ BとD | カ CとD |

問6 下線部⑥の前半には、江戸幕府で幕政改革が行われました。この改革で行われた政策について述べた文として正しいものを次のア～エから一つ選び、記号で答えなさい。

- ア 幕府の財政を改善するため、参勤交代における江戸の滞在期間<sup>たいざい</sup>を半減する代わりに大名に米を上納させる上米の制を導入した。
- イ ききんで疲弊<sup>ひへい</sup>した農村の立て直しに努め、再度のききんに備えて村で米をたくわえるように命じた。
- ウ 生類憐みの令を出して生命を大切にする気風を広めたり、寺社の造営を進めたりするなど社会の安定をはかった。
- エ 農村から江戸に出ていた農民を強制的に村に帰らせ、新たに江戸に出てくることも禁止した。

問7 下線部⑦に関連して、当時の民衆は民間の教育施設<sup>しせつ</sup>で簡単な文字の読み書きを学びました。江戸時代に各地につくられた読み・書き・そろばんなどを学ぶ教育施設を何と言いますか。漢字3字で答えなさい。

問8 下線部⑧はロシア語の教師として1874年から1876年まで日本に滞在しました。メーチニコフが日本を去った後の日本とロシアの関係について述べた文として正しいものを次のア～エから一つ選び、記号で答えなさい。

- ア ロシアで社会主義の政府がつけられると、日本はイギリスやアメリカとともにシベリアに軍隊を送り、革命を失敗させようとした。
- イ ロシアの皇帝の命令を受けたレザノフが長崎に来航して通商を求めたが、日本側は半年も回答せず待たせたうえに拒否<sup>きよひ</sup>した。
- ウ ロシアとの国境を確定するために、日本は榎本武揚<sup>はげん</sup>を派遣し、樺太の北半分をロシア領とする見返りに千島列島を日本領とする条約を結んだ。
- エ ロシアのバルチック艦隊をやぶった日本は、ドイツの仲介<sup>ちゆうかい</sup>でロシアと講和を結ぶことに成功し、多額の賠償金<sup>ばいしょうきん</sup>を獲得<sup>かくとく</sup>した。

問9 下線部⑨について述べた文として正しくないものを次のア～エから一つ選び、記号で答えなさい。

- ア 大きな天守閣を備えた城がつくられるようになり、金や銀を下地に用いたあざやかな障壁画で屋内が飾られた。
- イ 役人を派遣して各地の田畑の面積や収穫高を調査し、耕作する農民の名前とともに記録する検地が全国で実施された。
- ウ ポルトガル人が伝えた鉄砲が国内で生産できるようになり、足軽の鉄砲隊が敵の騎馬部隊を圧倒する戦いがおきた。
- エ 日本が明に貢ぎ物をもっていく形式で行われる勘合貿易がさかんとなり、貿易にかかわる堺や博多といった港町が繁栄した。

問10 下線部⑩は、幕末に外交使節の通訳として外国船の修理にかかわったことから、幕府による西洋式の軍艦導入にもたずさわりました。これに関連して、幕府の軍艦である威臨丸の船長として太平洋の横断に成功し、戊辰戦争の際に新政府に江戸城を引き渡すことを西郷隆盛との間で取り決めた人物は誰ですか。漢字で答えなさい。

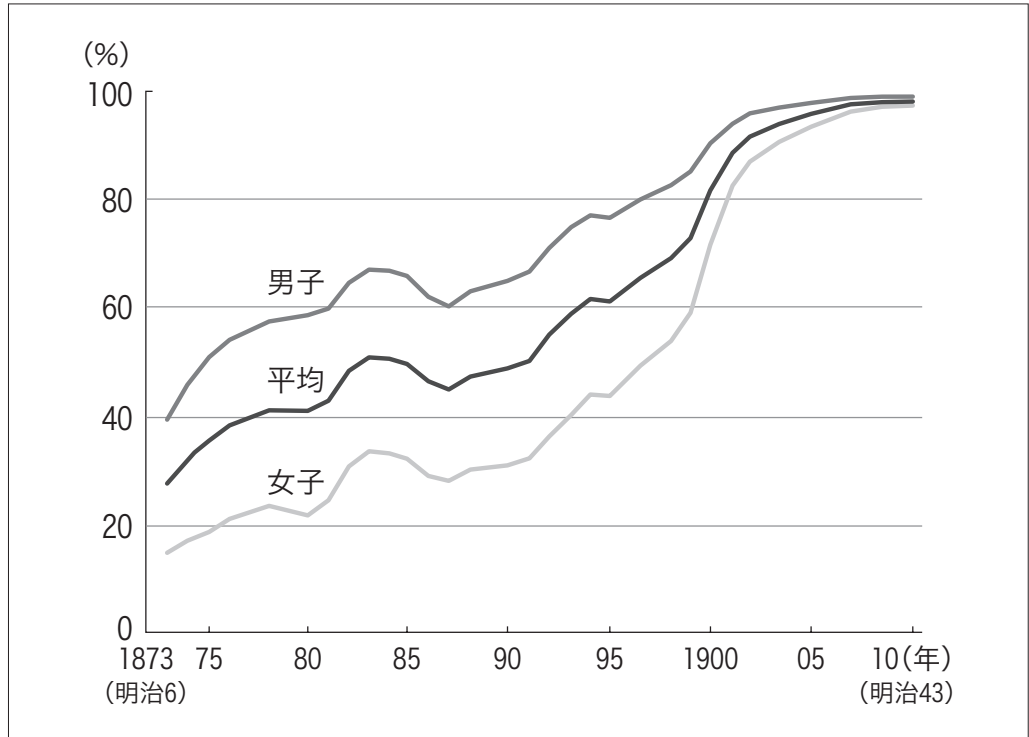
問11 下線部⑪に関連するできごとについて述べた次のA～Cの文を時期の古いものから順に並べかえるとどうなりますか。正しいものを後のア～カから一つ選び、記号で答えなさい。

- A 板垣退助が自由党を結成した。
- B 民選（撰）議院設立の建白書が政府に提出された。
- C 埼玉県秩父地方の農民の蜂起を軍隊が鎮圧した。

- ア A→B→C                      イ A→C→B                      ウ B→A→C
- エ B→C→A                      オ C→A→B                      カ C→B→A

問12 下線部⑫について、明治30年代に読み聞かせによる読書がすたれたのはなぜだと考えられますか。次に示すグラフの推移と表の内容をふまえて2行以内で説明しなさい。

義務教育就学率の変化



(『学制百年史』をもとに作成、『詳説日本史』山川出版社より)

尋常小学校(※)の教科目別週間教授時数

(明治24年小学校令による)

	時間数
修身	3
読書	} 15
作文	
習字	
算術	6
体操	3

(『学制百年史』より引用)

※ 尋常小学校とは、小学校のうち最初の4年間にあたる学校を言います。



問13 下線部⑬によって行われた改革について述べた文として正しくないものを次のア～エから一つ選び、記号で答えなさい。

- ア 経済を支配していた三井・三菱などの財閥が解体された。
- イ 軍国主義的な教育を改め、民主主義的な教育をめざす教育基本法が定められた。
- ウ 男子普通選挙で選ばれた議員たちの審議<sup>しんぎ</sup>を経て、日本国憲法が制定された。
- エ 地主の土地を小作人に分け与<sup>あた</sup>える農地改革が行われた。

問14 下線部⑭から1990年代はじめのできごとについて述べた文として正しいものを次のア～エから一つ選び、記号で答えなさい。

- ア アジアで初めてのオリンピックが東京で開催<sup>かいさい</sup>され、それに先だって東京と大阪を結ぶ新幹線が開通した。
- イ 関門トンネル・瀬戸大橋が同じ年に開通したことで、鉄道によって本州と北海道・四国が結ばれた。
- ウ 朝鮮半島での戦争に参加したアメリカ軍が日本に多くの物品を注文したことで、日本は好景気となった。
- エ 日本銀行が金利を下げたため投資がさかんになり、土地や株式が急激に値上がりし、日本は好景気となった。

## 2

次の文章を読んで、後の問いに答えなさい。

皆さんは、日本遺産を知っていますか。日本遺産は、日本各地に存在する有形無形の文化財を、各地域の歴史的な魅力や特色とからめて物語として構成し、文化庁が認定している制度です。従来は、国宝・重要文化財や史跡・名勝・①天然記念物など、個々の遺産を「点」として保存することが重視されてきましたが、日本遺産事業では、遺跡や伝統芸能、食文化などをストーリーでつなぎ、文化財を一体的にPRすることで、点在する遺産を「面」として活用・発信し、地域の振興に役立てることが重視されています。

それでは、どのような日本遺産があるのか、各地域ごとにいくつか見ていきましょう。まず北海道では、『カムイと共に生きる上川アイヌ ～②大雪山のふところに伝承される神々の世界～』という文化財が指定されており、北海道の先住民族であるアイヌの人々の自然に対する信仰や伝承、文化がさまざまなストーリーとして発信されています。東北地方では、山形県の『③山寺が支えた紅花文化』が知られています。お寺と紅花は一見無関係に思われますが、紅花貿易によってもたらされた莫大な富の一部が山寺にも寄進され、この地域を経済面でも文化面でも大きく発展させたという点で、両者には深いつながりがあると言えます。

関東地方では『かかあ天下－ぐんまの絹物語－』が有名です。現在では④関東内陸工業地域の中心である群馬県ですが、かつては養蚕や製糸・織物などの絹産業がさかんで、特に女性がその担い手として家計を支えた歴史が描かれています。同じく養蚕と織物がさかんな東京都の⑤八王子市についても、『霊気満山 高尾山 ～人々の祈りが紡ぐ桑都物語～』が日本遺産の指定を受けています。

中部地方については『葡萄畑が織りなす風景－山梨県峡東地域－』が挙げられます。かつては水田や桑畑だった土地が、先人たちの努力により一面のぶどう畑へと変わっていった歴史が自然景観の中に語られ、⑥果樹栽培が地域の風土に与えた影響を感じることができます。また、長野県と岐阜県の『⑦木曾路はすべて山の中～山を守り山に生きる～』は、江戸時代以降、森林資源を守りながら林業を営み、漆器などの特産物を生み出した伝統が遺産として認定されたものです。

近畿地方には、滋賀県に『⑧琵琶湖とその水辺景観－祈りと暮らしの水遺産』があります。豊かに水をたたえ、瑠璃色に輝く琵琶湖は「水の浄土」とされるほか、古代から水の神が宿るとして信仰されてきました。また、和歌山県の『「百世の安堵」～津波と復興の記憶が生きる広川の防災遺産～』は、江戸時代末期に発生した南海地震による被災からの復興の過程で蓄積された、防災に関連するさまざまな文化によって構成されます。21世紀に生きる私たちにとっても⑨災害に対する備えを再認識させる貴重な遺産とすることができるでしょう。

中国・四国地方については、島根県の『出雲國たたら風土記 ～鉄づくり千年が生んだ物語～』が指定されています。⑩近代的な製鉄の技術が確立した現代においても、この地域では世界で唯一、たたら製鉄の炎が燃え続けています。原料となる砂鉄を採取した跡地を広大な⑪水田に再生するとともに、燃料に木炭を利用して山林の循環利用を図るなど、持続可能な産業としての側面もあり、SDGsの考え方にも通ずるところがあります。また、⑫四国の4県にまたがる『「四国遍路」～回遊型巡礼路と独自の巡礼文化～』は、弘法大師ゆかりの札所を巡る全長1400kmに及ぶ巡礼路がテーマとなっています。1200年を超えて継承される伝統文化であり、険しい山道や長い石段、のどかな田園地帯、波静かな海辺などを「お遍路さん」が行き交う光景は、四国地方の風物となっています。

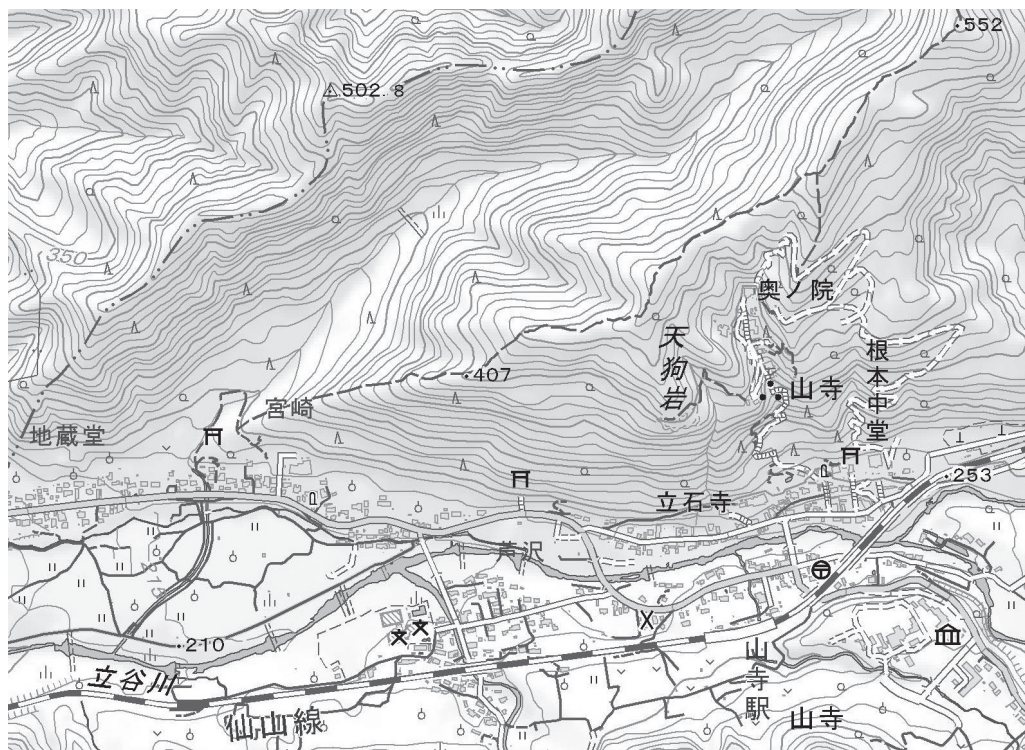
九州地方については、佐賀県と長崎県の『日本磁器のふるさと 肥前～百花繚乱のやきもの散歩～』が挙げられます。自然豊かな九州北西部の地は、陶石や森林、水など、窯業を営む条件がそろっており、歴史と伝統が培った⑬磁器生産の技と美に触れることができます。

昨年はコロナ禍によるさまざまな規制が緩和されたこともあり、⑭訪日する外国人をはじめ、多くの人々が日本各地を旅行する様子が見られました。今後日本遺産がより注目を集めるようになると考えられますが、文化財や自然環境の保護と観光資源としての活用を、バランスを取りながら進めていくことが大切と言えるでしょう。

問1 下線部①について、山口県ではカルスト地形で有名な場所が国の特別天然記念物に指定されています。この場所を漢字で答えなさい。

問2 下線部②に関連して、大雪山国立公園に水源があり、北海道中西部をって日本海へと流れる、北海道最長の川を何と言いますか。漢字で答えなさい。

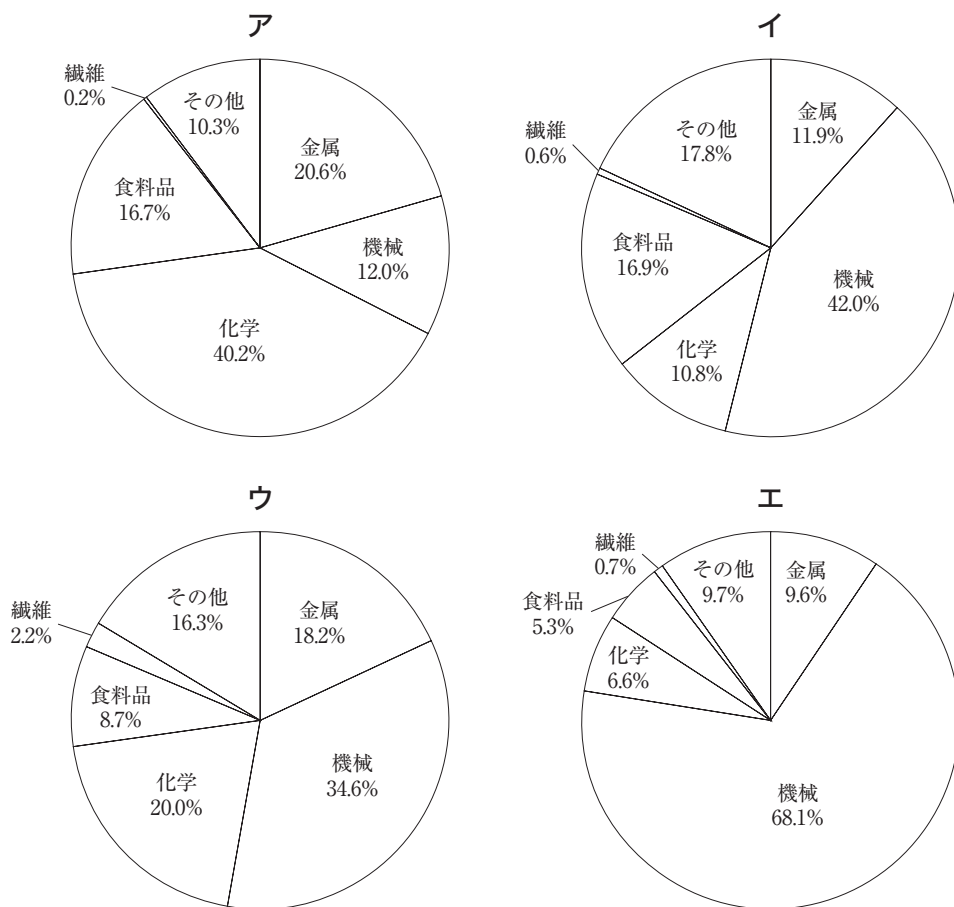
問3 下線部③について、次の地形図は、山形県の山寺付近を示したもの（電子地形図25000を拡大）であり、後の文章は、この地形図から読み取れる情報を元に、実際に現地を歩いてみたと仮定した場合の内容です。後の文章中の下線部が正しくないものをア～カから二つ選び、記号で答えなさい。



(国土地理院「電子地形図25000」を拡大)

山寺駅を北に出て少し進んで丁字路<sup>ていじろ</sup>を右折し、最初の交差点を左に曲がって行くと、立谷川<sup>わた</sup>を渡る橋がある。流れから見て、ア 川は西から東に向かって流れていることがわかる。橋を渡って山門を通り、イ 針葉樹林や広葉樹林が生い茂った森の中、急勾配<sup>きゅうこうばい</sup>の石段を上がっていくと、やがて山寺の境内に入る。境内を奥ノ院まで進んだ後、さらに道が続いているので行ってみると、幅<sup>はば</sup>が1 m未満の徒歩道（登山道）に入り、さらに進むと別の徒歩道にぶつかった。ウ 尾根に沿ってこの徒歩道を下っていくと、宮崎の集落が見えてきた。神社があったので立ち寄ってみたが、ちょうどこの辺りの標高は エ 240m くらいのようなのだ。神社の南にある少し広めの道路に出ると、川沿いの低地に オ 水田や果樹園が見える。この道路を東に進むと、右手に橋があり、立谷川の向こう側に カ 中学校と高等学校が見える。さらに歩いて行くと、川を渡って右手に交番<sup>まど</sup>があり、まもなく山寺駅の前に戻って来た。

問4 下線部④について、次のア～エのグラフは、関東内陸工業地域、京葉工業地域、瀬戸内工業地域、中京工業地帯のいずれかについて、製造品出荷額等の構成（2020年）を示したものです。このうち関東内陸工業地域にあてはまるものとして正しいものを次のア～エから一つ選び、記号で答えなさい。



(『日本国勢図会2023/24』より作成)

問5 下線部⑤に関連して、次の表は、八王子市と、東京都の市区町村の中で八王子市と人口が同規模の杉並区、江東区について、いくつかの指標をまとめたものです。表中のA～Cと市区の組み合わせとして正しいものを後のア～カから一つ選び、記号で答えなさい。

	人口（人） （2022年）	人口密度(人/km <sup>2</sup> ) （2022年）	65歳以上人口の割合 （％） （2022年）	2003年を100とした時の 2023年の面積（※）	製造品出荷額等(億円) （2019年）	年間商品販売額(億円) （卸売業、小売業） （2015年）
A	525,952	12,228.6	21.5	109	2,655	47,221
B	561,758	3,014.0	27.5	100	3,936	12,385
C	569,703	16,726.5	21.1	100	205	9,422

※ 境界が未確定の部分は含まない。

（『データでみる県勢2023』、国土地理院「全国都道府県市区町村別面積調」より作成）

	A	B	C
ア	八王子市	杉並区	江東区
イ	八王子市	江東区	杉並区
ウ	杉並区	八王子市	江東区
エ	杉並区	江東区	八王子市
オ	江東区	八王子市	杉並区
カ	江東区	杉並区	八王子市

問6 下線部⑥に関連して、次の表は三つの果実（日本なし、みかん、もも）について、生産量の上位5位までの都道府県（2021年）を示したものです。表中のA～Cと果実の組み合わせとして正しいものを後のア～カから一つ選び、記号で答えなさい。

	A	B	C
1位	山梨県	千葉県	和歌山県
2位	福島県	茨城県	愛媛県
3位	長野県	栃木県	静岡県
4位	山形県	長野県	熊本県
5位	和歌山県	福島県	長崎県

（『データでみる県勢2023』より作成）

	A	B	C
ア	日本なし	みかん	もも
イ	日本なし	もも	みかん
ウ	みかん	日本なし	もも
エ	みかん	もも	日本なし
オ	もも	日本なし	みかん
カ	もも	みかん	日本なし

問7 下線部⑦は日本三大美林の一つに数えられる樹木で有名です。この樹木として正しいものを次のア～エから一つ選び、記号で答えなさい。

ア ふな                      イ すぎ                      ウ ひのき                      エ かし

問8 下線部⑧について述べた文として正しいものを次のア～エから一つ選び、記号で答えなさい。

- ア 日本最大の面積を有する湖で、滋賀県の面積の約3分の1を占めている。周囲の山地にある豊富な山林が水源となっている。
- イ 琵琶湖疏水を通じて隣の岐阜県に水を供給するほか、大阪府や兵庫県の人々が利用する水道水にもなり、「近畿の水がめ」とも呼ばれる。
- ウ 琵琶湖に流れ込む川は多くあるが、琵琶湖から流れ出す川は熊野川だけであり、宇治川、淀川と名前を変えて大阪湾に注いでいる。
- エ 琵琶湖でとれたふなを使ったふなずしは日本でもっとも古い寿司の一つと言われ、滋賀県の郷土料理にもなっている。

問9 下線部⑨について述べた文として正しくないものを次のア～エから一つ選び、記号で答えなさい。

- ア 火山が噴火すると、吹き出した火山灰により太陽光がさえぎられ、冷害が発生することがある。
- イ 地震が起こると、埋め立て地などで地下水と土砂が混ざり、地盤がゆるくなる液状化現象が発生することがある。
- ウ 台風が接近すると、高潮に伴う急激な気温の低下により霜害が発生し、農作物に被害がおよぶことがある。
- エ 集中豪雨により、特に山間部でがけ崩れや地すべりが起こるほか、川に土砂が流れ込んで土石流が発生することがある。

問10 下線部⑩について述べた文として正しいものを次のア～エから一つ選び、記号で答えなさい。

- ア 鉄鋼の原料となる地下資源のうち、鉄鉱石はほぼ100%を輸入に頼っているが、石炭と石灰岩は国内の生産で自給が可能である。
- イ かつて日本の製鉄所の多くは内陸部に位置していたが、石油危機の後、その多くが臨海部の埋め立て地に移転した。
- ウ 2021年において、日本の鉄鋼生産量は中国、韓国、アメリカ、インド、ロシアに次ぐ世界第6位である。
- エ 鉄鋼は自動車や船舶などの材料としても利用されるため、かつては「産業のコメ」と呼ばれたこともある。

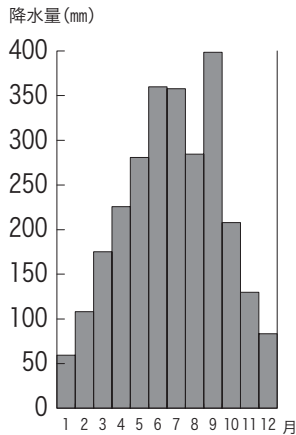
問11 下線部⑪に関連して、米づくりについて述べた文として正しくないものを次のア～エから一つ選び、記号で答えなさい。

- ア 北陸地方や東北地方では、年に1回米を栽培する水田単作地帯が多いが、九州地方など温暖な地域では米を2回栽培する二期作が行われることもある。
- イ 食生活の多様化を背景に米が余るようになったため、1970年ごろから国によって生産調整が進められ、野菜などの栽培に切り替える転作が行われた。
- ウ 第二次世界大戦後は直接田に種もみをまく直まきという方法で稲を育てるのが一般的であったが、近年は苗を育てた後に田植えをする方法も行われている。
- エ 稲を収穫した後、もみ殻を取って玄米にし、さらに米ぬかと胚芽を取り除いて精米したものが、いわゆる白米である。

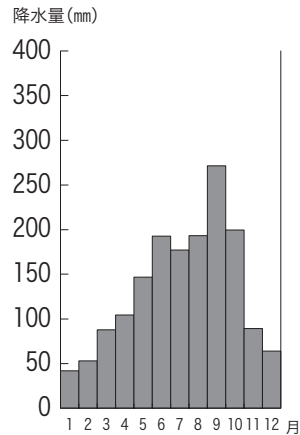


問12 下線部⑫について、次のア～エの図は、四国4県の県庁所在地のいずれかの月別降水量を示したものです。このうち高知県の県庁所在地にあてはまるものを次のア～エから一つ選び、記号で答えなさい。

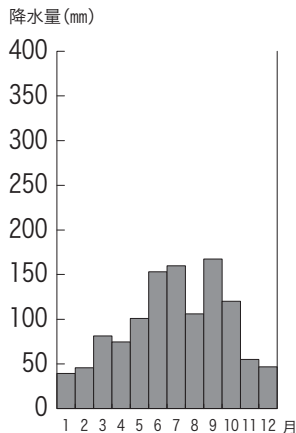
ア



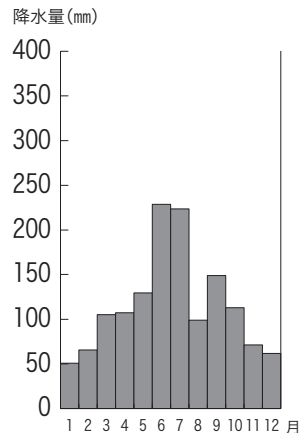
イ



ウ



エ



(気象庁ホームページ資料より作成)

問13 下線部⑬に関連して、佐賀県で生産され、国の伝統的工芸品にも指定されている陶磁器として正しいものを次のア～エから一つ選び、記号で答えなさい。

- ア 信楽焼      イ 唐津焼      ウ 備前焼      エ 九谷焼

問14 下線部⑭に関連して、もともとは「内向きの」「本国行きの」という意味の英語で、転じて外国人の訪日旅行や訪日外国人旅行者を示すようになった言葉をカタカナで答えなさい。

## 3

次の文章を読んで、後の問いに答えなさい。

「民主主義は、今まで試みられたすべての政治形態を除いて、最悪の政治形態である」というのは、イギリスのチャーチル元首相の①議会での言葉です。「最悪の政治形態」とは言いながらも、「今まで試みられたすべての政治形態を除いて」と言っていますから、これまで存在していた政治形態と比べると、現状では民主主義が一番「まし」な政治形態だとチャーチルは考えていたのです。民主主義は良いものだと思われがちですが、彼のように、民主主義は何かしらの課題を抱えているという視点を持つのは大切なことです。

そもそも民主主義が実現しているというのは、具体的にどのような状態でしょうか。民主主義は、人々の意志にもとづいて政治的決定が行われるという制度や考え方であり、その実現のために多くの国で採用されているのが国民主権です。②日本国憲法でも「主権は国民に存する」と記されています。例えば、選挙で自分たちの代表者を選ぶというのは、国民の意志にもとづいて政治が行われるための一つの方法かもしれませんが、しかし選挙以外にも③国民が意見を反映させる方法は考えられます。また民主主義と言われると多数決が頭に浮かぶ人も多いかもかもしれません。確かに多数決は物事を④効率よく決定できる方法と言えますが、⑤多数決が常に国民の意志を反映するわけではないという批判も可能です。最初のチャーチルの言葉も、多数派となった政党や⑥政府が国民の意志を正確には反映していない、ということを批判するなかで出てきた言葉でした。

また、民主主義とは、単に選挙など国民の意志を政治に反映させるための仕組みを意味するのではなく、社会の抱える課題を自分ごととしてとらえる、人々の考え方や生き方を意味するという見方があります。例えば、「民主主義」は英語の「デモクラシー」の訳語ですが、デモクラシーは「民主制」と訳される場合もあり、この場合は制度について述べられていると言えます。それに対して「デモクラシー」を「民主主義」と訳すとき、そこには単なる制度ではなく「考え方や生き方としての民主主義」という見方があると言えるのです。どのような制度が存在するかではなく、社会の抱える課題に対して、その社会に生きる人たちが自分の意志を持ち、それを反映させるような生き方をしていくこと、それが民主主義なのです。もちろん、国レベルの課題に対して急に自分の意志を持つことは難しいかもしれません。しかし、「地方自治は民主主義の学校」と言われるように⑦自分の住む身近な地域の課題に取り組んだり、⑧自らの権利を守るために戦う人を応援したりするを通して、社会の問題を自分ごととしてとらえることができるようになるでしょう。また「地球規模で考え、身近なところで行動せよ」という言葉は⑨環境問題について考える時に使われますが、これは⑩地球規模の課題も身近なところからの取り組みによって解決へと進んでいくという

ことです。このように、社会の抱える課題に一人ひとりが自分ごととして向き合う民主主義という考え方・生き方が、より良い社会の実現につながっていくと言えるのです。

問1 下線部①に関連して、現在の日本の国会について述べた文として正しいものを次のア～エから一つ選び、記号で答えなさい。

- ア 衆議院で法律案が可決される場合、本会議で最低でも233人の議員の賛成が必要である。
- イ 衆議院の方が参議院よりも国民の意見をより強く反映すると考えられるため、憲法改正の発議などの重要なことがらについて衆議院の優越が認められている。
- ウ 国会で予算案や法律案が審議しんぎされる時、学者や専門家などを招いて意見を聞くことがあるが、この会は公聴会と呼ばれる。
- エ 内閣総理大臣は、国会においてもっとも議席を多く持つ政党が指名し、その指名にもとづいて国会が任命する。

問2 下線部②の規定において、衆議院の解散中に国会の審議が必要になった場合に、内閣の求めによって開かれる会議を何と言いますか。解答らんらんに合うように漢字で答えなさい。

問3 下線部③に関連して、日本の裁判員制度について述べた文として正しいものを次のア～エから一つ選び、記号で答えなさい。

- ア 裁判員は、20歳以上の国民から抽選さくせんで選ばれ、選ばれた人が裁判のために仕事を休むことになる場合は裁判所から手当が支給される。
- イ 裁判員制度は、重大な刑事裁判の第一審に限定されているので、民事裁判に裁判員が関わることはない。
- ウ 裁判官3人と裁判員6人の9人による多数決で判断を下すため、裁判員だけの判断で有罪の判決が下されることもある。
- エ 裁判員は有罪か無罪かの判断を行い、有罪になった場合にどのような刑を課すかは裁判官が決める。

問4 下線部④に関連して、医療いりょうを効率化するために日本政府がマイナンバーカードに一体化することを進めているものがあります。それに対して「カードを持つことの強制ではないか」という批判もありますが、マイナンバーカードとの一体化が進められているものは何ですか。漢字5字で答えなさい。

問5 下線部⑤に関連して、次の会話文中の空らんに入る言葉はどのようなものになると思いますか。2行以内で書きなさい。

先生：政治における多数決といえは選挙ですが、皆さんも知っている通り、小選挙区制の選挙は死票が多いという特徴があります。これは落選者に投票した少数者の意見が反映されないという点で民意を反映していないと言えるでしょう。しかし、実はそれ以外にも「民意を反映していない」と言える場合が考えられるのです。

生徒：そうなんですか。

先生：例えば「原子力発電所（原発）を増やすべきか」ということを唯一の争点としたある小選挙区制の選挙を考えてみましょう。ある選挙区に3人の候補者(A～C)がおり、Aさんが「原発は増やすべき」、Bさんは「現状維持」、Cさんは「原発は減らすべき」と考えていたとします。そして投票権を持った人たち100人に、この3人を当選してほしい順に並べてもらいました。その結果が下の表のような状態だったとしましょう。この場合の選挙結果はどうなるか考えてみてください。その結果では「民意を反映していない」と考えることもできると思います。選挙結果と「民意を反映していない」と考えられる理由を合わせて説明してください。

1位	2位	3位	人数
Aさん	Bさん	Cさん	40人
Aさん	Cさん	Bさん	0人
Bさん	Aさん	Cさん	5人
Bさん	Cさん	Aさん	30人
Cさん	Aさん	Bさん	0人
Cさん	Bさん	Aさん	25人

生徒：この場合だと、。ですから、確かに民意を反映しているとは言えないのかもしれないですね。

問6 下線部⑥に関連して、現在の日本の行政について述べた文として正しいものを次のア～エから一つ選び、記号で答えなさい。

- ア 衆議院の解散や条約の公布など、天皇が行う国事行為に対して、内閣は助言と承認しょうにんを行い、その責任を負う。
- イ 国の収入や支出を検査する会計検査院が内閣の下にあり、公平な検査ができないため、会計検査院の独立が求められている。
- ウ 行政の仕事を民営化することで、効率を重視するのではなく、より公平にサービスが提供されるようになると考えられている。
- エ 閣議では、内閣総理大臣とすべての国務大臣が、行政についての重要なことから多数決で決定する。

問7 下線部⑦に関連して、日本の地方自治について述べた文として正しくないものを次のア～エから一つ選び、記号で答えなさい。

- ア 地方議会は総議員の3分の2以上の出席の下、4分の3以上の賛成で首長の不信任を議決でき、それを受けて首長は10日以内に議会を解散しなければ失職する。
- イ 首長は、地方議会が制定した条例や予算の議決に対して反対の場合には、審議のやり直しを求める権限を持つ。
- ウ 地域住民にとって重要な問題について住民投票を行うことができるが、その規定は条例が定めるので、小・中学生が投票した例もある。
- エ 地方公共団体の収入や支出などを監査するよう求めるためには、有権者数の50分の1以上の署名を首長に提出する必要がある。

問8 下線部⑧に関連して、労働者たちが労働条件の改善・維持などのために働くことを一時的にやめる行為を何と言いますか。正しいものを次のア～エから一つ選び、記号で答えなさい。

- ア デモ          イ リコール          ウ ストライキ          エ リデュース

問9 下線部⑨に関連して、海洋汚染おせんの原因の一つであり、食物連鎖れんさのたびに海に住む生物の体内ちくせきに蓄積され、生態系あくえいきょうに悪影響おほを及ぼすと考えられているものとして正しいものを次のア～エから一つ選び、記号で答えなさい。

- ア マイクロプラスチック          イ フロンガス
- ウ 赤潮          エ 二酸化炭素

問10 下線部⑩について取り組む組織の一つである国際連合に関連して述べた文として正しいものを次のア～エから一つ選び、記号で答えなさい。

ア 国際連合の安全保障理事会の常任理事国であるアメリカ・ロシア・イギリス・ドイツ・中国の5ヵ国はすべて核兵器を保有している。

イ 国際連合の総会においては、一つの国は人口の大小に関わらず投票権を1票持ち、一般的な問題は過半数で、重要問題は3分の2以上の賛成で決定される。

ウ 日本が国内で男女雇用機会均等法を制定したことを受けて、あらゆる分野での女性差別をなくすために国際連合の総会で女性差別撤廃条約が採択された。

エ 国際連合の加盟国は、設立当初はアジアの国がもっとも多かったが、冷戦終結後、ヨーロッパの加盟国が増加し、現在はヨーロッパの国がもっとも多い。

問題は以上です







# 2024年度 入学試験解答用紙〔社会〕(35分)

第2回 2月2日実施 吉祥女子中学校

1

問1	問2	問3	問4
問5	問6	問7	
問8	問9	問10	
問11			
問12			
-----			
問13	問14		

--

2

問1		問2	
問3		問4	問5
問6	問7	問8	問9

問10	問11	問12	問13
問14			

--

3

問1	問2		問3
	参議院の		
問4			
問5			
-----			
問6	問7	問8	問9
問10			

--

受験番号	氏名

得点