

2021年度入学試験問題

# 社 会

(35分)

第1回 2月1日実施

[注意] 解答はすべて解答用紙に記入しなさい。  
問題用紙も提出しなさい。

吉祥女子中学校

## 1

次の文章を読んで、後の問いに答えなさい。

近年、毎年のように発生している<sup>もうしょ こうう</sup>猛暑や豪雨災害などは、地球温暖化が原因とも言われています。古来から温暖化や寒冷化などはくり返し起こっており、こうした気候変動による天候不順や異常気象は、人々の生活を支える農業などに大きな<sup>えいきょう あた</sup>影響を与えてきました。最近では、①ききんや疫病、戦争、政治の混乱が起こるさまざまな要因の一つとして、気候変動をあげる見方も出てきています。この見方にもとづいて歴史をたどってみましょう。

約1万2千年前、地球の気候は急激に温暖化し氷河期が終わりをむかえます。①これによって日本の人々の生活環境も大きく変化していきました。この後も、温暖化と寒冷化は、小規模ながらもくり返されていきます。2世紀後半以降には、東アジアで寒冷な気候が続くようになり、このころの日本は、②『後漢書』東夷伝に「倭国大乱」と記されるような混乱期に入りました。

5世紀から太陽の活動が弱まって地球に届く太陽光が減少し、世界の各地でさらに寒冷化が進みますが、7世紀後半からは太陽活動が活発化し、次第に温暖化していきました。温暖な気候は人々の生活の安定をもたらし、8世紀のヨーロッパでは、フランク王国というフランス・ドイツ・イタリアの<sup>きそ</sup>基礎となる国が発展し、③東アジアでも唐などが<sup>はんえい</sup>繁栄することにつながりました。しかし、気候の温暖化は干ばつや大雨という災害ももたらします。この温暖化は1100年ごろがピークであり、日本では1180年代前半に相次いだ日照りや大雨・<sup>こうずい</sup>洪水が、特に西国の平氏の領地に、より多くの<sup>ひがい</sup>被害をもたらしました。これが④平氏の没落に影響したのではないとも言われます。

気候が温暖化すると、高緯度で寒冷<sup>はいこう</sup>傾向が強い東日本は、気温の<sup>じょうじょう</sup>上昇によって生産力が高まります。一方で、寒冷化すると冷害に<sup>なや</sup>悩まされることが多くなります。鎌倉時代に④幕府が東日本の関東に成立したのは、このころが温暖期にあたるからだとする説があります。同様に、関東を<sup>きやてん</sup>拠点としていた足利氏が京都に移って幕府を開いたのは、14世紀以降に起きた寒冷化の影響が西日本は<sup>ひかくてき</sup>比較的小さかったからとも考えられます。その後日本では、15世紀に冷夏や長雨といった天候不順にみまわれ、1420年から1470年の間は約4年に一度、広域のききんが起こりました。⑤その間に発生した都での戦乱を経て、室町幕府は統治能力を失い、世の中には下剋上の風潮が広がるようになりました。また⑥国人から農民まで多くの者が武器を持ち、一揆を起こすことも増えました。

16世紀後半から17世紀はじめは比較的気候が温暖となり、ちょうどこの時期に⑦豊臣秀吉や徳川家康による天下統一の世が実現しました。その後、寒冷期と温暖期をくり返し、天候不順が続いた時期には⑧一揆や打ちこわしが何度も起こりました。18世紀の特に寒冷な時期には、西日本より東日本、日本海側より太平洋側で冷害などの影

響を大きく受けました。このことが、東日本にある江戸幕府の弱体化と、西日本にある長州・薩摩・土佐・肥前藩の経済力向上に影響し、そして⑨これら西日本の四つの藩から、明治の一連の改革を行う人物らが多く出てきたと考えることもできます。

「明治凶作群」に含まれる⑩1902年や1905年、「昭和凶作群」に含まれる1931年や1934年は、寒冷化によって米などの収穫量が激減しました。さらに1930年代の恐慌の影響もあって人々の生活がより苦しくなったことが、日本による中国侵略の背景の一つとなりました。また、⑪1941年や1945年にも寒冷化は起こっています。特に1945年の寒冷化は、収穫量減少によって食糧が不足するという予測につながり、日本が終戦を決意する背景の一つになったとする説もあります。

このように見てくると、気候変動は時に、政治や社会に直接的にも間接的にも大きな影響を与えると考えることができます。⑫1980年代以降はかつてないスピードで温暖化が進んでいます。これは、太陽の活動などの自然的要因よりも、温室効果ガスの排出や森林伐採などの人為的要因が大きいと考えられています。安定した社会や生活のためにも、私たちは温暖化防止に向けた取り組みや、気候変動の影響を抑えるための政策を考え、より積極的に行動していかなければなりません。

問1 下線部①に関連して述べた文として正しくないものを次のア～エから一つ選び、記号で答えなさい。

ア 落葉樹林など温帯の森林が広がるようになった地域では、どんぐりや、くりなどの木の实が多く食べられるようになった。

イ 海面が上昇して入り江などが形成され、漁がさかんに行われるようになったことで、動物の骨や角などを材料とする漁労の道具が発達した。

ウ マンモスなどの大型の動物が絶滅して、イノシシなどの中型・小型動物が増えたことで、人々は弓矢や落とし穴を使用するようになった。

エ 移住生活から定住生活に変化し、原始農耕も行われて食糧が豊かになったため、はっきりとした貧富の差や身分のちがいが社会に生まれた。

問2 下線部②のように、倭国の様子はたびたび中国の古い歴史書に記されてきました。中国の歴史書に記された内容について述べた次のA～Cの文を時期の古いものから順に並べかえるとどうなりますか。正しいものを後のア～カから一つ選び、記号で答えなさい。

- A 倭王武が「私の祖先は、よろいやかぶとを身につけて山や川をかけめぐり…」と記した文書を皇帝に送った。
- B 倭の国王が「太陽の昇る東方<sup>のぼ</sup>の国の天子が、手紙を太陽の沈む西方<sup>しず</sup>の国の天子にいたす…」と記した文書を皇帝に送った。
- C 倭の女王が「今、あなたを『親魏倭王』とし、金印紫綬<sup>しじゆ</sup>をさずけ…銅鏡は百枚を与える…」という文書を皇帝から授かった。

- ア A→B→C                      イ A→C→B                      ウ B→A→C
- エ B→C→A                      オ C→A→B                      カ C→B→A

問3 下線部③に関連して、唐の知識や技術は、日本にも伝えられて大きな影響を与えました。遣唐使などを通じた唐初期の文化の流入を背景に、7世紀後半ころから8世紀はじめころを中心に栄えた日本の文化を解答らん<sup>らん</sup>に合うように漢字で答えなさい。

問4 下線部④に関連して、鎌倉幕府の将軍や執権について述べた文として正しいものを次のア～エから一つ選び、記号で答えなさい。

- ア 初代将軍となった人物は、征夷大將軍に任命されたことをきっかけに、朝廷の許可を得て初めて全国に守護と地頭を設置した。
- イ 2代将軍となった人物は、北条氏出身の女性を母としていたが、北条氏によって、その地位を失った。
- ウ 初代執権となった人物は、執権追討を命じた後鳥羽上皇を破り、これを隱岐へ流した上で、京都に六波羅探題<sup>かんし</sup>を設置して西国を監視した。
- エ 8代執権となった人物は、元に従うよう求めてきたチンギス・ハンの要求<sup>こぼ</sup>を拒んだため、日本は2度にわたって元に襲撃された。

問5 下線部⑤について、この戦乱は、幕府の将軍の跡継ぎ<sup>あとつぎ</sup>をめぐる対立に、有力守護大名や管領家の争いがからんで起こったものでした。この戦乱で東軍の総大将になった細川勝元に対し、西軍の総大将となった守護大名を漢字で答えなさい。

問6 下線部⑥に関連して、農民がたびたび武器を持って蜂起するようになった背景として、農業技術の発展や鉄製農具の普及によって農民たちの生活が安定し、かれらが力を付けたことが考えられます。日本の農業の発達について述べた次のA～Cの文を時期の古いものから順に並べかえるとどうなりますか。正しいものを後のア～カから一つ選び、記号で答えなさい。

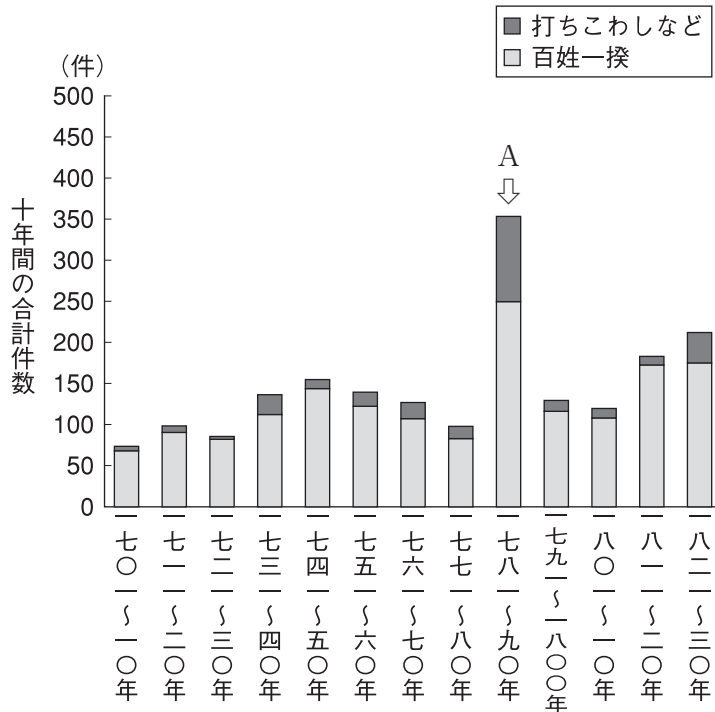
- A 国内で綿花栽培が開始されたほか、畿内では三毛作が始まった。
- B 牛馬を利用した耕作を行い、刈敷や草木灰を肥料として利用し始めた。
- C 千歯こきや、唐みが普及するなどして、農業の作業効率が向上した。

- ア A→B→C                      イ A→C→B                      ウ B→A→C
- エ B→C→A                      オ C→A→B                      カ C→B→A


問7 下線部⑦に関連して述べた文として正しいものを次のア～エから一つ選び、記号で答えなさい。

- ア 豊臣秀吉は山崎の戦いで明智光秀を破ると、石山本願寺の跡地に姫路城を築いて天下統一の本拠地とした。
- イ 豊臣秀吉には、茶道を大成した千利休や、「唐獅子図屏風」を描いた狩野永徳などの文化人が仕えた。
- ウ 徳川家康は、大阪冬の陣、夏の陣で豊臣氏を滅ぼすと、息子に将軍職をゆずり、その地位は徳川氏が世襲することを世に示した。
- エ 徳川家康がオランダなどとの貿易を許可すると国内のキリスト教信者が増え、これを背景に大友宗麟らキリシタン大名が少年使節を教皇のもとに派遣した。

問8 下線部⑧について、次のグラフは18世紀から19世紀前半までに発生した百姓一揆や打ちこわしの件数を示したものです。Aの時期に、百姓一揆や打ちこわしがある前後に比べて飛びぬけて多い背景として考えられることを、後の絵図に描かれたできごととその影響にふれて2行以内で説明しなさい。



(『百姓一揆総合年表』より作成)



やぶんおおやけのず びさいづひろお  
 <夜分大焼之図 (美斎津洋夫蔵)>

問9 下線部⑨に関連して、長州・薩摩・土佐・肥前藩出身の人物について述べた文として正しくないものを次のア～エから一つ選び、記号で答えなさい。

- ア 長州藩出身の木戸孝允は、不平等条約の改正に向けての予備交渉<sup>こうしやう</sup>や、外国の制度・文物の調査のため、岩倉使節団の一員として欧米に派遣された。
- イ 薩摩藩出身の西郷隆盛は、征韓論を否定されて政府を去り、その後、鹿児島<sup>かごしま</sup>の士族に推されて西南戦争を起こした。
- ウ 土佐藩出身の板垣退助は、新聞紙条例や集会条例で自由民権運動<sup>だんあつ</sup>が弾圧される中、藩閥政治を批判して民撰議院設立建白書を明治政府に提出した。
- エ 肥前藩出身の大隈重信は、明治政府が国会の開設の時期を明示したことを受けて、同志らとともに立憲改進黨を結成した。

問10 下線部⑩に日本はある国と同盟を結びました。この同盟をよりどころにして日本が途中から参戦し、その過程で中華民国への進出を深めることになった戦争を漢字で答えなさい。

問11 下線部⑪に始まった戦争について述べた文として正しいものを次のア～エから一つ選び、記号で答えなさい。

- ア この戦争は、日本の陸軍がイギリスの支配するマレー半島に上陸し、海軍がアメリカ海軍基地のあるハワイの真珠湾を攻撃<sup>こうげき</sup>したことがきっかけで始まった。
- イ この戦争で、日本はミッドウェー海戦以来次々と戦いに勝利して占領地を増やしたが、サイパン島<sup>うぱ</sup>を奪われてからは、次第に各地で敗退を重ねた。
- ウ この戦争の末期、アメリカは2度にわたって原子爆弾を日本に投下したのち、ポツダム宣言を発表して日本に無条件降伏<sup>こうふく</sup>を迫った。
- エ この戦争は、戦後の日本の領土<sup>はんい</sup>の範囲や、連合軍が日本を占領することなどを取り決めたサンフランシスコ平和条約<sup>ていけつ</sup>の締結によって終結した。

問12 下線部⑫の世界と日本のできごとについて述べた文として正しいものを次のア～エから一つ選び、記号で答えなさい。

- ア イラクがクウェートに侵攻<sup>しんこう</sup>したことをきっかけに湾岸戦争<sup>ぼっぼつ</sup>が勃発すると、日本も国際社会の一員としての貢献<sup>こうけん</sup>が求められ、軍事資金などを提供した。
- イ 第四次中東戦争の影響を受けて、日本では物価が急上昇して経済が混乱し、高度経済成長は終わりをむかえた。
- ウ 日本の首相がモスクワを訪問して、ソ連との間に共同宣言を調印し国交を回復したことで、日本は国際連合への加盟が認められた。
- エ 太平洋のビキニ環礁におけるアメリカの水爆実験<sup>ひばく</sup>で第五福竜丸が被爆<sup>ひばく</sup>したことをきっかけに、日本で第一回原水爆禁止世界大会<sup>かいさい</sup>が開催された。

問13 波線部㊸に関連して、聖武天皇は、ききんや疫病、災害が多発して社会不安が増したことを背景に、仏教を利用してこれを鎮めようとししました。その一環として各国ごとに建てられた国分寺の場所として正しくないものを次の地図中のア～エから一つ選び、記号で答えなさい。



※国境は旧国のものです。

問14 波線部㊸に関連して、1180年代における、平氏が源氏に敗れた戦いを正しい順番に並べたものを次のア～エから一つ選び、記号で答えなさい。

- ア 一ノ谷の戦い → 平治の乱 → 富士川の戦い
- イ 平治の乱 → 富士川の戦い → 壇ノ浦の戦い
- ウ 一ノ谷の戦い → 壇ノ浦の戦い → 富士川の戦い
- エ 富士川の戦い → 一ノ谷の戦い → 壇ノ浦の戦い



次のページにも問題があります

## 2

次の文章を読んで、後の問いに答えなさい。

国土地理院の調査によれば、47都道府県を合わせた2020年1月時点の日本の国土面積は377,975.21km<sup>2</sup>あります。1972年に①沖縄県が本土に復帰したことで、ほぼ現在の姿になりましたが、その後も各都道府県の面積は変化を続けています。面積が増加する例としては、②干拓による農地などの拡大や臨海部の埋め立てが一般的ですが、小笠原諸島の西之島のように、海底の火山が噴火してできた新島がつながって面積が大きくなる場合もあります。

また、③隣接する都道府県どうして領域が変更され、面積が増減する場合があります。例えば、2005年に長野県山口村が岐阜県中津川市と合併して、岐阜県の面積が増加することがありました。ところで、都道府県の境界はどのように決められたのでしょうか。現在の境界の多くは、奈良時代に設置された60以上の「国」の境が由来とも言われています。具体的には④森林に深くおおわれた山地や山脈を境界としている場合や、湖や河川が境界となる場合が多く見られます。これは⑤交通の障害となる地形を境界としたこととも関係しています。また、⑥北海道・本州・四国・九州の4島のほか、多くの島々からなる日本では、小さな島の中に県境が設置されている例も複数あります。このうち⑦瀬戸内海の石島（井島）は、領地の線引きがあいまいであった江戸時代に、二つの藩が島の領有や周辺の⑧漁業に関する権利をめぐる争った結果、幕府の裁定で領地が分けられた歴史があり、現在も島を分断するように県境が引かれています。その名残として、「いしま」という一つの島でありながら、現在でも岡山県側と香川県側で漢字の表記が異なっています。

さて、⑨富士山の頂上は何県かと問われた時に、おそらく多くの人が⑩静岡県か山梨県のどちらかと考えることでしょう。しかし実際には、富士山の山頂を含む東側の斜面は県境が確定していません。実は2020年1月時点で、都道府県にまたがる境界未定地域は全国に14ヵ所あり、21の都県に関わっています。その総面積は12,780.26km<sup>2</sup>にも及び、⑪新潟県の面積とほぼ同じ大きさです。これまで、国の裁定によって県境が確定したものの、特異な形の県境ができてしまった事例もあります。福島県の北西部には、山形県と新潟県に挟まれた、狭いところだと幅が1 m未満、長さが約7.5kmにわたる領域があります。これは、福島県民が五穀豊穡を願って長い間信仰の対象としてきた飯豊山の神社へと続く参道ですが、明治時代にこの参道の周辺が新潟県に編入されたことをきっかけに、県境紛争へと発展しました。結局この問題は、両県とも一歩も引かずに泥沼化したため、国が介入してようやく決着しました。また、青森県と秋田県にまたがる⑫十和田湖は、明治時代以来長きにわたって境界が未定でしたが、関連する自治体による話し合いにより、2008年に双方の合意で県境が確定しました。

⑫人口減少と過疎化が進む中で、今後も市町村合併による境界の変更が増えていく

可能性がありますが、行政の都合を優先するのではなく、住民感情に配慮<sup>はいりよ</sup>した境界画  
定が行われることが望ましいでしょう。

問1 下線部①について述べた文として正しくないものを次のア～エから一つ選び、  
記号で答えなさい。

ア 一年を通して温暖で、年平均気温は20℃を上回る一方、台風の影響<sup>えいきょう</sup>を受けやす  
いため、県庁所在地の年間降水量は約2000mmにもなる。

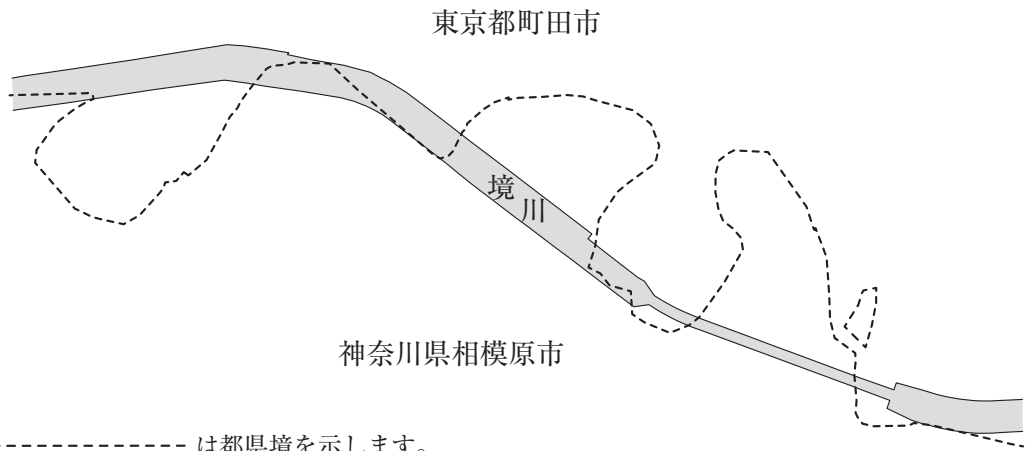
イ 沖縄の島々の多くは、水を通しやすい岩でできているため、水不足になりやす  
いことから、屋上に給水タンクを設置する家も見られる。

ウ 日本にあるアメリカ軍専用施設<sup>しせつ</sup>の総面積のうち、沖縄県のアメリカ軍専用施設  
が占める割合は3割程度である。

エ 豊かな自然や美しい文化遺産が残されていることもあって観光業がさかんで、  
全就業人口のうち第三次産業に従事する人の割合は約8割である。

問2 下線部②について、400年以上前から大規模な干拓が進められて水田が造成さ  
れた、岡山県南部にある湾を何と言いますか。解答らんに合うように漢字で答え  
なさい。

問3 下線部③に関連して、2020年12月1日、東京都町田市と神奈川県相模原市の間で土地が交換され、両市および東京都と神奈川県の境界が変更されました。その目的は、以前と同じように境川を都と県の境界とすることです。次の地図は、今回境界が変更された地域の一部について、変更前の様子を示したものです。境川と都と県の境界が一致しなくなった理由として考えられることを2行以内で説明しなさい。



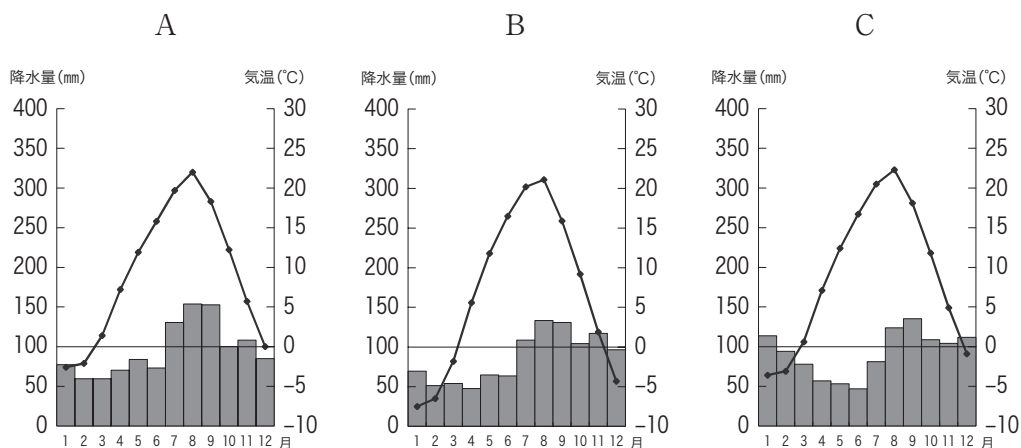
※ ----- は都県境を示します。

(相模原市議会ホームページ資料より作成)

問4 下線部④について、日本の交通について述べた文として正しいものを次のア～エから一つ選び、記号で答えなさい。

- ア 船舶は一度に大量の物を安く運ぶことができるため、貨物輸送では自動車に次ぐ輸送量を担っている。
- イ 日本初の中央高速道路（中央自動車道）の開通以降、日本では高速道路の建設が進んだが、現在でも高速道路が通っていない県がある。
- ウ 日本の航空輸送のうち、旅客輸送量をもっとも多いのは東京（羽田空港）と大阪（伊丹空港）を結ぶ路線である。
- エ 近年、環境への悪影響を減らすため、鉄道で行われている貨物輸送をトラック等の自動車の利用へと転換するモーダルシフトが注目されている。

問5 下線部⑤について、次のA～Cの雨温図は、北海道にある3都市（札幌・函館・旭川）のいずれかの都市のものである。A～Cと都市の組み合わせとして正しいものを後のア～カから一つ選び、記号で答えなさい。



(『理科年表 2020』より作成)

	A	B	C
ア	札幌	函館	旭川
イ	札幌	旭川	函館
ウ	函館	札幌	旭川
エ	函館	旭川	札幌
オ	旭川	札幌	函館
カ	旭川	函館	札幌

問6 下線部⑥について、次の表は、九州地方に属する8県（福岡県・佐賀県・長崎県・熊本県・大分県・宮崎県・鹿児島県・沖縄県）のいずれかについて、隣接する県の数※1）、東端と西端の経度差※2）、北端と南端の緯度差※2）をまとめたものです。このうち、長崎県と鹿児島県にあてはまるものを表中のA～Kからそれぞれ一つ選び、記号で答えなさい。

※1 「隣接する県の数」は陸上で接している県の数です。

※2 各県の東端・西端・南端・北端は離島部も含まれます。経度差と緯度差の「分」は、60分で1度となります。「分」以下の数字については切り捨てています。

	隣接する県の数	東端と西端の経度差	北端と南端の緯度差
A	3	1度10分	1度28分
I	1	2度16分	2度44分
U	3	1度21分	1度01分
E	2	0度48分	0度40分
O	3	1度12分	1度14分
Ka	0	8度23分	3度50分
Ki	2	2度48分	5度17分
Ku	4	1度23分	1度06分

（国土地理院ホームページ資料より作成）

問7 下線部⑦について、次の表は、瀬戸内海に面する4県（兵庫県・岡山県・徳島県・愛媛県）のいずれかについて、農産物産出額の上位5位までの品目とその構成割合（2018年）を示したものです。このうち兵庫県にあてはまるものを表中のA～Eから一つ選び、記号で答えなさい。

（単位：％）

	1位		2位		3位		4位		5位	
A	米	22.8	鶏卵	17.4	ぶどう	12.1	生乳	7.9	肉用牛	6.4
I	米	31.0	肉用牛	11.9	鶏卵	11.4	たまねぎ	6.0	生乳	6.0
U	みかん	20.4	米	13.6	豚	8.1	鶏卵	4.0	いよかん	3.8
E	米	13.7	プロイラー	7.6	肉用牛	7.2	にんじん	7.2	かんしょ	6.5

（農林水産省「平成30年生産農業所得統計」より作成）

問8 下線部⑧について、日本の漁業について述べた文として正しくないものを次のア～エから一つ選び、記号で答えなさい。

ア 日本はかつて世界一の漁獲量をほこった時期もあったが、現在は世界有数の水産物輸入国である。

イ 漁業種類別の漁獲量で見ると、1970年代に遠洋漁業が衰退<sup>すいたい</sup>した後は、主に日本の排他的経済水域内で行う沖合漁業が1位となっている。

ウ 貴重な漁業資源を守るため、養殖漁業や栽培漁業などのいわゆる「育てる漁業」が重要になってきている。

エ 漁港別の水揚げ量では、鳥取県の境港が現在も1位をほこり、はえなわ漁によるさんまが漁獲量の大部分を占めている。

問9 下線部⑨に関連して、次の地形図は、富士山の北側に位置する富士吉田市付近を示したものです。この地形図から読み取れることについて述べた文として正しいものを後のア～エから一つ選び、記号で答えなさい。



(国土地理院作成 2万5千分の1地形図「富士吉田」より作成)

- ア この地形図中の最高地点の標高は1000mを超えており、最低地点の標高は600mを下回っている。
- イ 地形図中のほぼ中央を南北に走る国道139号線の道路は、北から南に向かってゆるやかな下り坂となっている。
- ウ 下吉田駅から麓池温泉前駅までの地形図上の長さが3cmであるとする<sup>よしいけ</sup>と、実際の距離は750m<sup>きより</sup>である。
- エ 市役所の南側には税務署や工場、小中学校が見られるほか、水田として利用されている場所もある。



問10 下線部⑩について、次の表は静岡県が製造品出荷額等で上位に入る三つの産業（木材・木製品、飲料・たばこ・飼料、輸送用機械器具）のいずれかについて、上位5位までの都道府県とその出荷額（2017年）を示したものです。表中のA～Cと産業の組み合わせとして正しいものを後のア～カから一つ選び、記号で答えなさい。

（単位：億円）

	A		B		C	
1位	愛知県	264,951	静岡県	9,357	静岡県	2,193
2位	静岡県	43,249	栃木県	9,324	北海道	1,726
3位	神奈川県	41,002	京都府	9,165	茨城県	1,663
4位	群馬県	36,794	福岡県	6,609	愛知県	1,472
5位	広島県	36,226	茨城県	5,273	広島県	1,405

（『データで見る県勢2020年版』より作成）

	A	B	C
ア	木材・木製品	飲料・たばこ・飼料	輸送用機械器具
イ	木材・木製品	輸送用機械器具	飲料・たばこ・飼料
ウ	飲料・たばこ・飼料	木材・木製品	輸送用機械器具
エ	飲料・たばこ・飼料	輸送用機械器具	木材・木製品
オ	輸送用機械器具	木材・木製品	飲料・たばこ・飼料
カ	輸送用機械器具	飲料・たばこ・飼料	木材・木製品

問11 下線部⑪のように、火山活動によってできた大きな<sup>おうち</sup>凹地に水がたまってできた湖を何と言いますか。解答らんには合うようにカタカナで答えなさい。

問12 下線部⑫に関連して、65歳以上の人口が総人口の21%以上を占める社会を何と言いますか。解答らんに合うように漢字で答えなさい。

問13 波線部⑬について、天然の三大美林として正しくないものを次のア～エから一つ選び、記号で答えなさい。

ア 木曽ひのき

イ 青森ひば（津軽ひば）

ウ 秋田すぎ

エ 尾鷲ひのき

問14 波線部⑭の伝統的工芸品として正しいものを次のア～エから一つ選び、記号で答えなさい。

ア 小千谷ちぢみ

イ 信楽焼

ウ 南部鉄器

エ 加賀友禅

次のページにも問題があります

## 3

次の文章を読んで、後の問いに答えなさい。

平和を維持するのは、一つの①国だけでは難しく、国際的な協力が不可欠です。これまでさまざまな②国際機関がつくられ、③国際紛争の解決・④環境問題・⑤感染症対策などに取り組んできました。しかし近年は、自分の国を優先するために、国際機関から脱退する動きも見られるようになってきました。このままでは世界的な課題に対して、各国が協力して解決を目指すことが難しくなり、平和が脅かされてしまうかもしれません。そこで、平和を維持するためにはどのような条件が必要であるか考えてみたいと思います。

世界の平和と安全を守るために創設された初期の国際機関の一つが国際連盟です。この国家間の連合という構想は18世紀の哲学者であるカントという人物から大きな影響を受けています。カントは『永遠平和のために』という本の中で、永遠平和を実現するための六つの項目を掲げました。まず、将来的に戦争の原因となりそうなものを含んだ条約は、平和条約とは呼んではならないということをあげています。カントは⑥平和とはすべての敵意がない状態と考えています。そのため、将来の戦争につながる要素を含んだ条約では敵対関係が残ってしまい、永遠の平和は実現しないのです。二つ目が、ある国を別の国が所有してはならないというものです。カントは、国とは人間が集まってできたものであり、その国の人たち以外は誰もその国を支配することはできないと考えています。これは他国を不当に侵略することを禁止していることと言えます。三つ目が、いつでも戦争が始められるような軍隊を持たないようにすべきであるというものです。このような軍隊を持つ国があると他の国は常に戦争の危険にさらされてしまうからです。戦争を避けるために戦力を持たないというこの考え方は④日本国憲法の第9条にも取り入れられています。四つ目が、戦争をするために⑤国が借金をすることの禁止です。戦争にはたくさんのお金が必要になりますから、戦争のためにお金を集める方法を制限することで戦争を防ぐことができます。五つ目が、ある国の⑥政治体制や統治のあり方に対して、他国が暴力を使って干渉してはならないというものです。他国による干渉は、独立した国の⑦国民の権利を侵害することになってしまうからです。最後が、他国の信頼を損ねるような行為をしてはいけないというものです。信頼関係がくずれてしまうと、平和を維持するために国どうしが協力できなくなってしまうのです。

カントは18世紀の人ですから、かれが生きていた世界は私たちが生きている世界の状況とはちがう部分がたくさんあるでしょう。しかしかれの考えは、今でも私たちが平和について考えるときのヒントになります。みなさんも⑧将来は有権者として、自分が住む地域や国のあり方を決定していくことになります。一人ひとりが、平和のためには何が必要なのかを考えることが、より良い世界の実現につながるのです。

問1 下線部①のルールを決定するのは、日本においては主に国会の役割です。現在の日本の国会の制度において、衆議院で可決され、参議院で否決された法律案を成立させるために、衆議院の本会議で必要な賛成の人数は最低何人ですか。正しいものを次のア～エから一つ選び、記号で答えなさい。なお、衆議院の総議員数は465人とします。

ア 78人           イ 104人           ウ 233人           エ 311人

問2 下線部②の一つである国際連合について述べた文として正しいものを次のア～エから一つ選び、記号で答えなさい。

ア 世界各地で民族紛争や地域紛争が起こっているため、信託統治理事会の役割は増大している。

イ 安全保障理事会の非常任理事国10ヵ国は任期が2年で、日本も非常任理事国に選出されたことがある。

ウ 国連総会では、世界の人々の意見が正確に反映されるように、人口の多い国は、少ない国よりも多くの投票権を持っている。

エ 国際連合が武力制裁を禁止しているのは、国際連盟が武力制裁を行う権限をたびたび行使して国際情勢の混乱を招いたためである。

問3 下線部③への取り組みについて述べた文として正しいものを次のア～エから一つ選び、記号で答えなさい。

ア 国連人間環境会議は、「かけがえのない地球」というスローガンを掲げ、ブラジルで開かれた。

イ 外国には、住民などが土地を買い取って自然を守るナショナル・トラストという運動があるが、日本ではまだ行われていない。

ウ 国連で採択された「持続可能な開発目標（SDGs）」の一つとして、気候変動に具体的な対策をとることが掲げられている。

エ 2020年度以降の温室効果ガス削減などのための国際的枠組みとして、京都議定書が採択された。

問4 下線部④について、次の条文は日本国憲法第21条です。条文中の空らんに入る語句を5字で答えなさい。

- |   |
|---|
| <p>① 集会、結社及び言論、出版その他一切の <input type="text"/> は、これを保障する。</p> <p>② 検閲は、これをしてはならない。通信の秘密は、これを侵してはならない。</p> |
|---|

問5 下線部⑤に関連して、道路や橋などをつくることを目的として国がお金を借りる際に発行するものを何と言いますか。漢字4字で答えなさい。

問6 下線部⑥に関連して、現在の日本の統治機構について述べた文として正しいものを次のア～エから一つ選び、記号で答えなさい。

ア 内閣は、司法権を担う裁判所の権力を抑制するために、長官も含めた15名の最高裁判所の裁判官を任命する。

イ 国会は立法権を持つが、行政権を持つ内閣が出す政令の範囲内で法律を定めなければならない。

ウ すべての裁判所は、内閣の行政処分などが憲法に違反しているかどうかを判断する権限を持っている。

エ 議院内閣制にもとづき、衆議院と参議院はどちらも内閣不信任決議を行う権限を持っている。

問7 下線部⑦に関連して、日本における基本的人権のあつかいについて述べた文として正しいものを次のア～エから一つ選び、記号で答えなさい。

ア 日本国憲法において基本的人権は、現在の国民だけでなく将来の国民に与えられるものであると規定されている。

イ 法の下での平等を保障するために男女雇用機会均等法などの法整備が進んだことで、男女の格差が少ない国であると国際的にも高く評価されている。

ウ 健康で文化的な最低限度の生活を営む権利を保障するために、所得のない人や低い人に対して生活費などを支給する健康保険の制度がある。

エ 日本国憲法で、どんな職業にでもつくことができる権利がすべての人に保障されているため、職業選択の自由を法律によって制限することはできない。

問8 下線部⑧に関連して、有権者がちょうど12万人の地方自治体における住民の請求権について述べた文として正しいものを次のア～エから一つ選び、記号で答えなさい。

ア 市議会の解散を請求する場合には、2400人以上の有権者の署名を集めて、首長に提出する。

イ 市の収入・支出などを公表させるための監査を請求する場合には、4万人以上の有権者の署名を集めて、首長に提出する。

ウ 首長の解職を請求する場合には、4万人以上の有権者の署名を集めて、市議会に提出する。

エ 新しい条例の制定を請求する場合には、2400人以上の有権者の署名を集めて、首長に提出する。

問9 波線部⑨に関連して、アラブ諸国と長年対立してきた国で、2020年8月にアラブ首長国連邦と国交正常化の合意をした国があります。その国として正しいものを次のア～エから一つ選び、記号で答えなさい。

ア バーレーン      イ パレスチナ      ウ イラン      エ イスラエル

問10 波線部⑩に関連して、「戦争は人の心の中で生まれるものであるから、人の心の中に平和の<sup>とりで</sup>砦を築かなければならない」という考え方にもとづいて設立された組織として正しいものを次のア～エから一つ選び、記号で答えなさい。

ア UNESCO      イ UNICEF      ウ UNEP      エ UNCTAD

問題は以上です





# 2021年度 入学試験解答用紙〔社会〕(35分)

第1回 2月1日実施 吉祥女子中学校

1

問1	問2	問3
		文化
問4	問5	問6
問7		
問8		
-----		
問9	問10	問11
問12		
問13	問14	


2

問1	問2
	湾
問3	
-----	

--

問4	問5	問6	
		長崎	鹿児島
問7	問8	問9	問10
問11		問12	
湖		社会	
問13	問14		


3

問1	問2	問3
問4		
問5		
問6	問7	問8
問9	問10	


受験番号	氏名

得点